

## *Materialien und Aufgaben*

### **Siedlungsformen unterscheiden: Stadt, Agglomeration, Dorf**

Lies den folgenden Text von der Website des Bundes:



*Die Stadtgrenze zu Bern – ca. 3.5 Kilometer vom Stadtzentrum entfernt.*

© EDA, Präsenz Schweiz

***Die Schweizer Bevölkerung ist hauptsächlich städtisch. Drei Viertel aller Einwohner haben sich in Städten niedergelassen.***

*Die Schweiz hat eine mittlere Bevölkerungsdichte von 208 Einwohnern pro km<sup>2</sup>. Die Bevölkerung verteilt sich entsprechend den topographischen Verhältnissen sehr unregelmässig. Die grosse Mehrheit lebt im Mittelland.*

*Die Schweizer Bevölkerung ist mehrheitlich städtisch. Knapp 85 % der Bevölkerung lebt im städtischen Kernraum und im Einflussgebiet der städtischen Kerne – ausserhalb leben nur knapp 16 %. Allein in den 5 grössten Agglomerationen der Schweiz (Zürich, Genf, Basel, Bern, Lausanne) leben fast 40 % der Gesamtbevölkerung.*


*Seit den sechziger Jahren konzentriert sich die Zunahme der Bevölkerungszahl auf kleinere Zentren und auf die Agglomerationsgürtel.*

Text: <https://www.eda.admin.ch/aboutswitzerland/de/home/gesellschaft/bevoelkerung/stadt-und-land.html>

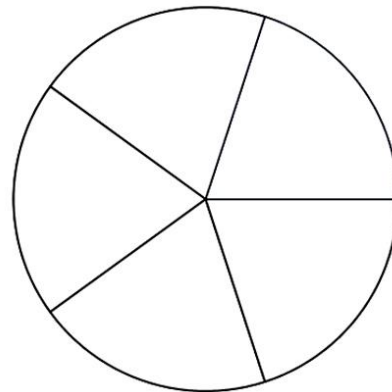
## Prozentuale Flächenanteile darstellen

Du hast im Arbeitsblatt 2 bereits gelernt, mit der Prozent-Raster-Folie zu arbeiten. Versuche nun die Angaben aus dem Text des Bundes damit darzustellen (benutze Grau für die Stadtbewohner/innen und Grün für die Landbewohner/innen):

Von allen Schweizerinnen und Schweizern wohnen **84% in Städten** und **16% auf dem Land** v.a. in Dörfern.



84% Stadtbewohner/innen und 16% Dorfbewohner/innen



60% Landfläche und 40% Stadtfläche

## Wann ist eine Stadt eine Stadt?

Schaue dir folgendes Erklärvideo zum Thema «Stadt oder Land?» an und beantworte dann die Fragen unten: **SRF mySchool**, <https://www.srf.ch/sendungen/myschool/stadt-oder-land>

### 1. Bevölkerungsdichte

Du hast im Erklärvideo gehört, dass die 16% Menschen, welche in der Schweiz auf dem Land wohnen, **60% der gesamten Landfläche bewohnen (3/5 der Landfläche)**.

Rechnest du weiter, dann weisst du, dass die 84% Städter also **auf 40% der gesamten Landfläche wohnen (2/5 der Landfläche)**.

Male die entsprechenden Felder gemäss dem Flächenverhältnis auf dem Kuchendiagramm oben rechts aus (grün und grau)!

Verteile nun 100 Menschen (100% der Schweizer Bevölkerung) als Punkte ins Kuchendiagramm: 84 Menschen auf die graue Landfläche und 16 Menschen auf die grüne Landfläche.

Was stellst du fest: \_\_\_\_\_ wohnen weniger Leute auf einer grösseren Fläche ( \_\_\_\_\_ Bevölkerungsdichte). \_\_\_\_\_

wohnen mehr Leute auf einer kleineren Fläche ( \_\_\_\_\_ Bevölkerungsdichte).

## 2. Einwohnerzahl

Ein Ort wird dann als Stadt angesehen, wenn sein EBL-Wert höher als \_\_\_\_\_ beträgt. EBL bedeutet:

E \_\_\_\_\_ (... zeigt, wie viele Menschen im Ort \_\_\_\_\_ )

B \_\_\_\_\_ (... zeigt, wie viele Menschen im Ort \_\_\_\_\_ )

L \_\_\_\_\_ (... zeigt, wie viele Menschen im Ort \_\_\_\_\_ )

## 3. Wirtschaftssektoren

Die Menschen in der Stadt, in der Agglomeration und auf dem Land arbeiten oft in unterschiedlichen Sektoren, das heisst, sie haben unterschiedliche Berufe. Ergänze die folgenden drei Wirtschaftssektoren und zeichne die dazugehörigen Berufe dazu!

_____ sektor	_____ sektor	_____ sektor
Stadt	Agglomeration	Land

## 4. Verkehr

Versuche, folgende Fragen durch genaues Analysieren der Karten auf Google Maps und mit Hilfe des Internets zu beantworten:

- Schau dir die Strassennetze der Schweiz an: In welcher der drei Grosslandschaften hat es am meisten Strassen und warum?
- Wo Städte sind, braucht es auch Strassen: Welches sind die drei grössten Städte im Mittelland? Welche im Jura? Welche in den Alpen? Warum hat es in den Alpen keine Grossstädte?
- Schau dir die Stadt Bern im Internet an: Wo entlang verläuft die Stadtgrenze und wo der dazugehörige Gürtel (Agglomeration)! Was heisst «Agglomeration»? Was sind «Pendler»?

**Siedlungsformen und Grosslandschaften in Bezug setzen**

Ort	Grosslandschaft	Bild-Nr.	Siedlungsform
Zürich			
Neuenburg			
Altdorf			
	Jura		
	Mittelland		
	Voralpen/Alpen		
			Grossstadt
			Stadt mit Agglomeration
			Dorf (hier: Bergdorf)
<b>Mein Wohnort:</b>			



Bild Nr. 1:



Bild Nr. 2:




Bild Nr. 3:




Bild Nr. 4:



Bild Nr. 5:



Bild Nr. 6:



Bild Nr. 7:



Bild Nr. 8:

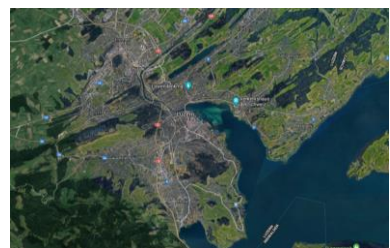


Bild Nr. 9: